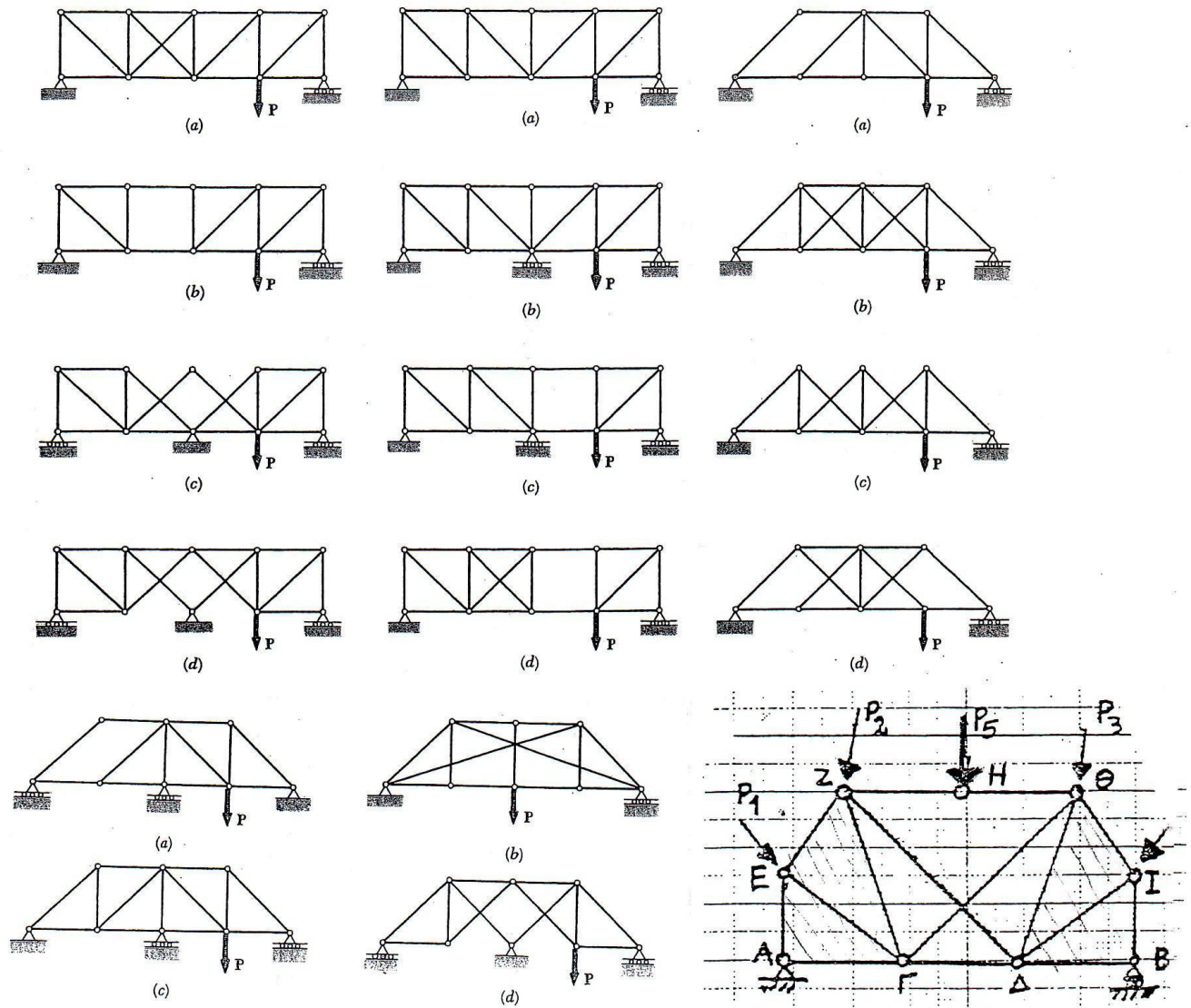
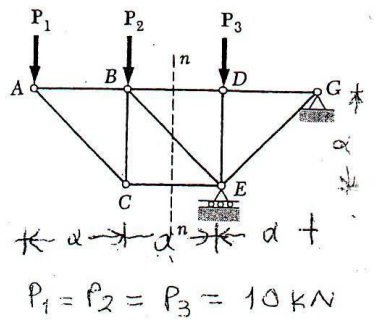
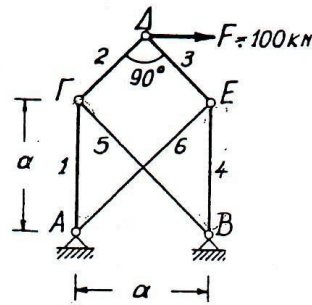


## ΑΣΚΗΣΕΙΣ ΣΤΑΤΙΚΗΣ - ΟΜΑΔΑ Θ'

1. Για τους εικονιζόμενους δικτυωτούς φορείς εξετάστε αν είναι στεροί, χαλαροί ή μηχανισμοί. Εάν είναι στεροί εξετάστε αν είναι ισοστατικοί ή υπερστατικοί.



2. Να εξετασθούν οι φορείς ως προς την στερεότητα και ισοστατικότητα και να ευρεθούν οι τάσεις των ράβδων.



3. Εξετάσετε τους φορείς του σχήματος ως προς την στερεότητα και την ισοστατικότητα. Να υπολογισθούν οι δυνάμεις στις ράβδους

